

யா/அராலி இந்துக் கல்லூரி

வரலாறு பாட அடைவு மேம்பாட்டுச்
செயற்றிட்டம் - 2020

பயிற்சிக் கையேடு - 04

தரம் 8

அலகு 4

**நாடுகாண் பயணங்களும் ஐரோப்பியர்
கீழைத்தேசங்களுக்கு வருகை தருதலும்**

அலகு 04

பகுதி I

- 01 பார்சீகவளைகுடா பகுதி வழியாக கொண்டு செல்லப்பட்ட பொருட்கள் விற்பனை செய்யப்பட்ட இடம்
- 1 கொன்ஸ்தாந்தினோபிள் 2 அலெக்சாந்திரியா 3 புளோரன்ஸ் 4 வெனிஸ்
- 02 செங்கடல், எகிப்து வழியாக கொண்டு செல்லப்பட்ட பொருட்கள் விற்கப்பட்ட இடம்
- 1 கொன்ஸ்தாந்தினோபிள் 2 அலெக்சாந்திரியா 3 புளோரன்ஸ் 4 வெனிஸ்
- 03 சாடுகாண் பயணம் ஏற்பட்டமைக்கான உடனடிக் காரணம்
- 1 திசையகருவி கண்டுபிடிக்கப்பட்டமை 2 புவிளோன வடிவானது உறுதிப்படுத்தப்பட்டமை
- 3 கொன்ஸ்தாந்தினோபிள் துருக்கியர்களால் கைப்பற்றப்பட்டமை
- 4 கப்பல்கள் கட்டப்பட்டமை
- 04 நாடுகாண் பயணங்களில் முதலில் ஈடுபட்ட நாடு
- 1 போர்த்துக்கல் 2 ஸ்பானியா 3 பிரான்ஸ் 4 பிரித்தானியா
- 05 நாடுகாண் பயணத்திற்கு ஆதவளித்த போர்த்துக்கல் நாட்டு மன்னன்
- 1 இசபெல்லா 2 பேர்டினாந் 3 கடலோடி ஹென்றி 4 மகலன்
- 06 கடலோடி ஹென்றி கப்பல் பயிற்சிப் பாடசாலை அமைத்த இடம்
- 1 லிஸ்பன் 2 அலெக்சாந்திரியா 3 புளோரன்ஸ் 4 வெனிஸ்
- 07 ஆபிரிக்காவின் தென்முனைக்குப் புயல்முனை எனப்பெயரிட்டவர்
- 1 வாஸ்கொடகாமா 2 பார்த்தலோமியஸ் டயஸ் 3 மகலன் 4 கொலம்பஸ்
- 08 புயல்முனைக்கு நன்னம்பிக்கை முனை எனப் பெயரிட்டவர்
- 1 இசபெல்லா 2 பேர்டினாந் 3 கடலோடி ஹென்றி 4 மகலன்
- 09 நாம் வாசனைத் திரவியங்களையும் கிறிஸ்தவர்களையும் தேடி வந்தோம் எனக் கூறியவர்
- 1 வாஸ்கொடகாமா 2 பார்த்தலோமியஸ் டயஸ் 3 மகலன் 4 கொலம்பஸ்
- 10 ஆசிய, இந்து சமுத்திரப் பிரதேசத்தில் நாடுகாண் பயணங்களில் ஈடுபட்ட ஐரோப்பிய நாடு
- 1 போர்த்துக்கல் 2 ஸ்பானியா 3 பிரான்ஸ் 4 பிரித்தானியா
- 11 ஐபிரியக் குடாநாட்டில் அத்திலாந்திக் சமுத்திரத்தை நோக்கி அமைந்துள்ள நாடு
- 1 போர்த்துக்கல் 2 ஸ்பானியா 3 பிரான்ஸ் 4 பிரித்தானியா
- 12 ஐபீரியக்குடாவின் பெரிய நாடாக அமைவது
- 1 போர்த்துக்கல் 2 ஸ்பானியா 3 பிரான்ஸ் 4 பிரித்தானியா

- 13 பேர்டினன்ட், இசபெல்லா ஆகியோரது காலத்தில் பலம் வாய்ந்த அரசாக மாறிய நாடு
 1 போர்த்துக்கல் 2 ஸ்பானியா 3 பிரான்ஸ் 4 பிரித்தானியா
- 14 அத்திலாந்திக் சமுத்திரப் பகுதிகளில் நாடுகாண் பயணங்களில் ஈடுபட்ட ஐரோப்பிய நாட்டினர்
 1 போர்த்துக்கல் 2 ஸ்பானியா 3 பிரான்ஸ் 4 பிரித்தானியா
- 15 உலகை முதன் முதலில் சுற்றி வந்தவர்
 1 வாஸ்கொடகாமா 2 பார்த்தலோமியஸ் டயஸ் 3 மகலன் 4 கொலம்பஸ்
- 16 புதிய உலகத்தைக் கண்டுபிடித்த பெருமைக்குரியவர்
 1 வாஸ்கொடகாமா 2 பார்த்தலோமியஸ் டயஸ் 3 மகலன் 4 கொலம்பஸ்
- 17 தென் அமெரிக்காவின் தென்கரையில் பசுபிக்கமுத்திரத்தின் நுழைவாயிலான நீரிணையை கண்டுபிடித்தவர்
 1 வாஸ்கொடகாமா 2 பார்த்தலோமியஸ் டயஸ் 3 மகலன் 4 கொலம்பஸ்
- 18 அமெரிக்கா கண்டம் எனப் பெயர் வரக்காரணம்
 1 பரந்த நிலப்பரப்பைக் கொண்டிருந்தமையால்
 2 அமெரிக்க வெஸ்புசியினால் கண்டுபிடிக்கப்பட்டமையினால்
 3 ஆங்கிலேயர் குடியேற்றங்களை அமைத்தமையினால்
 4 அதிகளவான வளங்களைக் கொண்டிருந்தமையினால்
- 19 பின்வருவனவற்றைத் தொடர்புபடுத்தினால் வரும் விடை
 1 பார்த்தலோமியஸ் டயஸ் A பிலிப்பைன்ஸ்
 2 வாஸ்கொடகாமா B பகாமஸ் தீவுகள்
 3 கிறிஸ்தோபர் கொலம்பஸ் C இந்தியாவின் கள்ளிக்கோட்டை
 4 பேர்டினன் மகலன் D ஆபிரிக்காவின் தென்முனை
- 1 DCBA 2 DCAB 3 BCDA 4 ACDB
- 20 பின்வருவனவற்றைத் தொடர்புபடுத்தினால் வரும் விடை
 1 பேர்டினன் கோடேஸ் A கனடா
 2 பிரான்சிஸ்கோ பிசாரோ B வட அமெரிக்காவின் புனித லோரன்ஸ் நதி
 3 கபோட் சகோதரர்கள் C பேரு
 4 ஐக்மிஸ் காடியர் D மெக்சிக்கோ
- 1 DCBA 2 DCAB 3 BCDA 4 ACDB
- 21 கபோட் சகோதரர்களது தாய் நாடு
 1 போர்த்துக்கல் 2 ஸ்பானியா 3 பிரான்ஸ் 4 பிரித்தானியா

22 இந்தியா வரை ஆக்கிரமித்த கிரேக்கப் பேரரசன்

1 மகா அலெக்சாண்டர் 2 மகா கொன்ஸ்தாந்தைன் 3 நெப்போலியன் 4 அசோகன்

23 கிரேக்க நாகரிகத்தின் வீழ்ச்சியின் பின்னர் உருவான நாகரிகம்

1 மொசப்பத்தேமியா 2 எகிப்து 3 உரோம் 4 சிந்துநதி

24 உரோம நாகரிகத்தின் வீழ்ச்சியின் பின்னர் ஐரோப்பாவில் தோன்றிய அமைப்பு

1 மானிய முறை 2 முதலாளித்துவம் 3 தேசிய அரசு 4 அடிமை முறை

25 முஸ்லிம்களால் ஆசியாவிலிருந்து கொண்டு செல்லப்பட்ட பொருட்கள் விற்கப்பட்ட இடம்

1 கொன்ஸ்தாந்தினோபிள் 2 அலெக்சாந்திரியா 3 புளோரன்ஸ் 4 வெனிஸ்

26 முதன் முதலில் ஆசியாவிற்கு வந்த ஐரோப்பிய இனத்தவர் ஆவார்.

1 போர்த்துக்கேயர் 2 ஸ்பானியர் 3 பிரான்சியர் 4 பிரித்தானியர்

27 முதன் முதலில் ஆசியாவை வந்தடைந்த போர்த்துக்கேயர்

1 வாஸ்கொடகாமா 2 பார்த்தலோமியஸ் டயஸ் 3 மகலன் 4 கொலம்பஸ்

28 இந்தியாவில் உள்ள கோவாவை தமது கீழைத்தேய்வர்த்தக மத்திய நிலையமாகத் தெரிவு

செய்தவர்கள்

1 போர்த்துக்கேயர் 2 ஒல்லாந்தர் 3 பிரான்சியர் 4 பிரித்தானியர்

29 1602இல் கிழக்கிந்திய வர்த்தக சங்கத்தை அமைத்தவர்கள்

1 போர்த்துக்கேயர் 2 ஒல்லாந்தர் 3 பிரான்சியர் 4 பிரித்தானியர்

30 தமது வர்த்தக மத்தியலையத்தை ஜாவாவின் பத்தேவியாவில் அமைத்தவர்கள்

1 போர்த்துக்கேயர் 2 ஒல்லாந்தர் 3 பிரான்சியர் 4 பிரித்தானியர்

31 ஒல்லாந்தரது கவனம் தென்கிழக்காசிய நாடுகளில் ஏற்பட்டமைக்கான காரணம்

1 வாசனைத்திரவியங்கள் அதிகம் விளைந்தமையால்

2 வர்த்தகப் பொருட்கள் அதிகம் காணப்பட்டமையால்

3 பாதுகாப்பான பிரதேசமாக இருந்தமையால்

4 மக்களின் ஒத்துழைப்புக் கிடைத்தமையால்

பகுதி II

01 நாடுகாண் பயணம் என்றால் என்ன?

.....
.....

02 நாடுகாண் பயணங்கள் ஏற்படுவதற்கு முன்னர் ஐரோப்பியர் அறிந்து வைத்திருந்த பிரதேசங்கள் எவை?

03 ஐரோப்பியர் எவ்வாறு தகவல்களைப் பெற்றிருந்தனர்?

04 ஐரோப்பியர் அறிவு பெற்றிராத பிரதேசங்கள் எவை?

05 வர்த்தகம் காரணமாக செழிப்புற்றிருந்த நகரங்கள் எவை?

06 ஆசியாவிற்கும் ஐரோப்பிவற்கும் வர்த்தக தொடர்பு மேற்கொண்ட பாதைகள் எவை?

07 நாடுகாண் பயணங்கள் ஏற்பட்டமைக்கான காரணங்கள் எவை?

.....

.....

.....

.....

.....

08 கொன்ஸ்தாந்தினோபிள் துருக்கியரால் கைப்பற்றப்பட்டமை நாடுகாண் பயணத்திற்கு எவ்வாறு காரணமாக அமைந்தது?

.....

.....

.....

.....

.....

09 நாடுகாண் பயணங்களில் எதிர்நோக்கிய பிரச்சினைகள் எவை?

.....

.....

.....

.....

10 நாடுகாண் பயணங்களுக்கு அனுசரணை வழங்கிய நாடுகள் எவை?

.....

11 ஐபீரியக் குடாநாட்டில் அமைந்துள்ள நாடுகள் எவை?

.....

12 போர்த்துக்கல் நாட்டு நாடுகாண் பயணிகள் யாவர்?

.....

13 ஸ்பானியா நாட்டு நாடுகாண் பயணிகள் யாவர்?

.....

.....

14 ஐரோப்பியர் ஆசிய நாடுகளுக்கு வருகை தந்தமைக்கான காரணங்கள் எவை?

.....

.....

.....

.....

15 மானிய முறையின் இயல்புகள் எவை?

.....

.....

.....

.....

16 ஐரோப்பாவில் மானிய முறை நிலவிய போது முஸ்லிம்களின் அதிகாரம் வலுப்பெற்றிருந்த பிரதேசங்கள் எவை?

.....

17 முஸ்லிம்கள் பின்வரும் ஆசிய நாடுகளிலிருந்து எகாண்டு சென்ற பொருட்கள் எவை?

- சீனா
- ஐப்பான்
- இலங்கை
- இந்தியா
- ஜாவா
- சுமாதிரா, போர்னியோ(கிழக்கிந்திய தீவுகள்) -

18 ஒல்லாந்தர் ஆரம்பத்தில் எதிர்நோக்கிய பிரச்சினைகள் எவை?

.....

.....

.....

19 பிரித்தானியர் இந்தியாவில் வர்த்தக நிலையங்களை அமைத்த இடங்கள் எவை?

.....

20 பிரித்தானியரால் கைப்பற்றப்பட்ட ஆசிய நாடுகள் எவை?

.....

21 பிரான்சியர் இந்தியாவில் வர்த்தக நிலையங்களை அமைத்த இடங்கள் எவை?


.....

22 பின்வரும் படங்களை அவதானித்து விடை எழுதுக.

1 படத்தில் காட்டப்படுபவர் யார்?

2 இவருடைய தொடர்புடைய நாடு எது?

3 இவர் 1498இல் வந்தடைந்த இடம் எது?



1 படத்தில் காட்டப்படுபவர் யார்?

2 இவரோடு தொடர்புடைய நாடு எது?

3 இவர் கடற் பிரயாணம் பற்றிய பாடசாலையை அமைத்த இடம் எது?

.....

4 இவர் ஆபிரிக்காவின் தென்முனைக்கு இட்ட பெயர் யாது?

.....



1 படத்தில் காட்டப்படுபவர் யார்?

.....

2 இவரோடு பிறந்த நாடு எது?

.....

3 இவரது நாடுகாண் பயணத்திற்கு அனுசரணையளித்த நாடு எது?

.....


4 இவரால் கண்டுபிடிக்கப்பட்ட இடம் எது?

.....

5 இவரது கடற் பிரயாணம் மூலம் நிரூபிக்கப்பட்ட உண்மை எது?

.....

நா.செல்வச்சந்திரன்

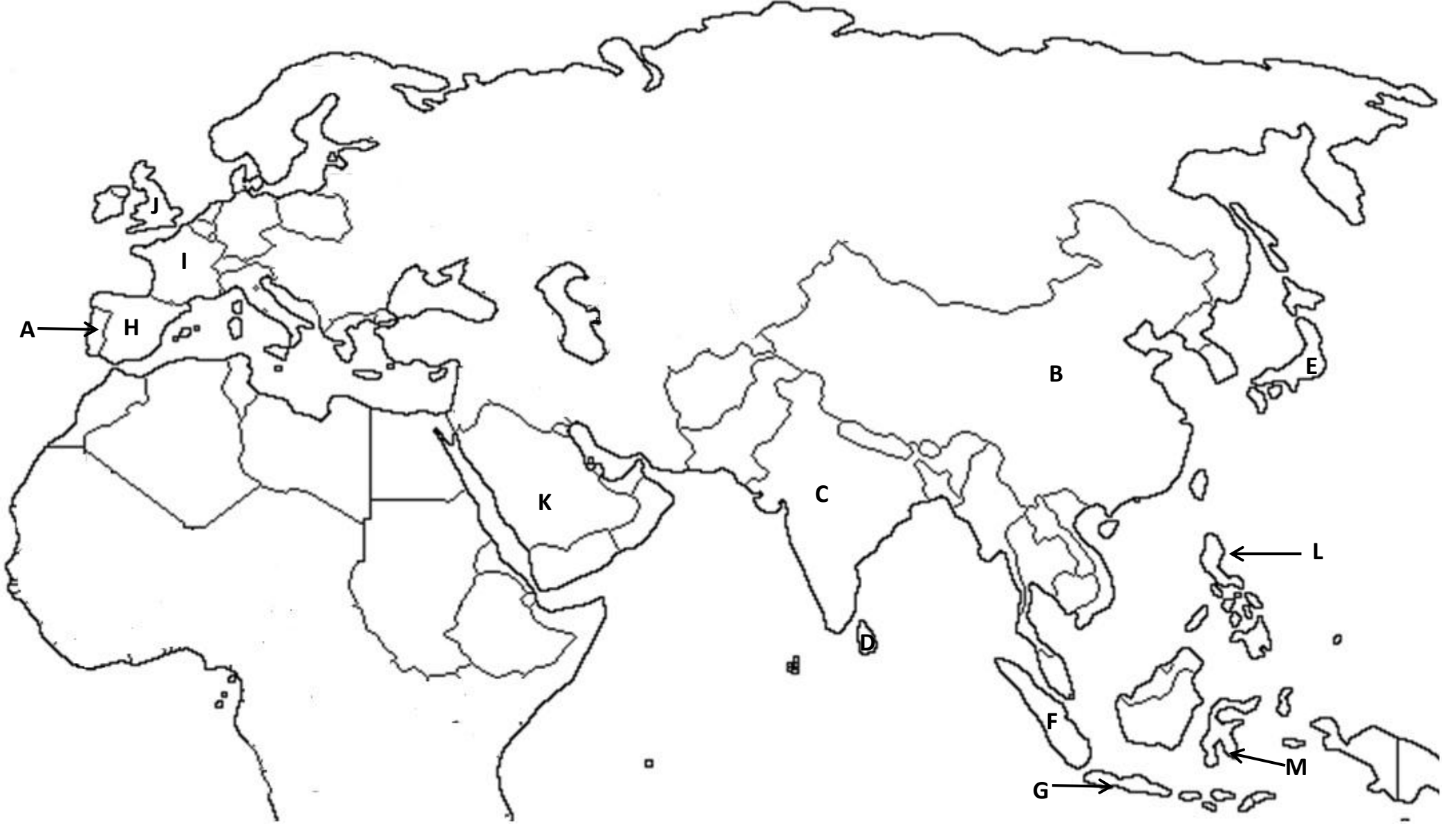


ஆங்கில எழுத்துக்களால் காட்டப்பட்டுள்ள கண்டங்கள், சமுத்திரங்களை எழுதுக.



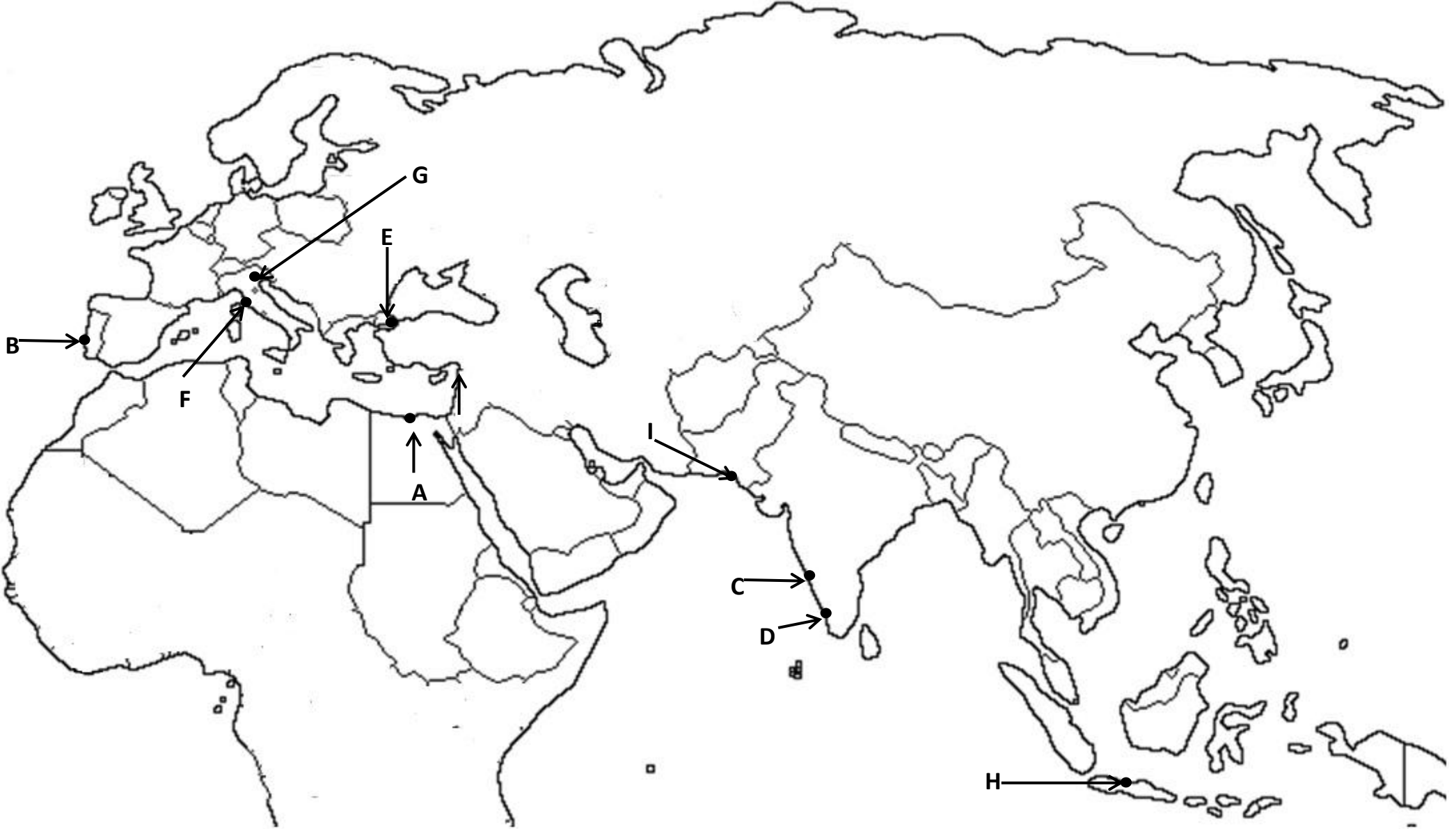
பின்வரும் ஆங்கில எழுத்துக்களால் குறிப்பிடப்பட்டுள்ள இடங்களின் பெயர்களை எழுதுக.

(போர்த்துக்கல், ஸ்பானியா, பிரான்ஸ், இங்கிலாந்து, அரேபியா, இந்தியா, சீனா, ஜப்பான், இலங்கை, சுமாதிரா, ஜாவா, போர்னியோ, பிலிப்பைன்ஸ்)



பின்வரும் ஆங்கில எழுத்துக்களால் குறிக்கப்பட்டுள்ள இடங்களின் பெயர்களை எழுதுக.

(லிஸ்பன்,கொன்ஸ்தாந்திநோபிள், கள்ளிக்கோட்டை, பத்தேவியா, கோவா, உரோம். வெனிஸ், அலெக்சாந்திரியா, கராச்சி)



பின்வரும் ஆங்கில எழுத்துக்களால் குறிப்பிடப்படும் இடங்களின் பெயர்களை எழுதுக.

(மத்தியதரைக்கடல், செங்கடல், கருங்கடல், பாரசீக்கடல், அரபிக்கடல், நன்னம்பிக்கை முனை, வங்காள விரிகுடா)

